


7. 在 603 458 302 這個數中，兩個「3」所表示的數值相差多少？

答案：_____

2分

8.



上圖的灰色格內有蝴蝶_____隻，所以，上圖中約共有蝴蝶_____隻。

2分

2分

9. 寫出一個數，它是 15 和 30 的公因數。

答案：_____

2分

10. 6 和 8 的最小公倍數是_____。

2分

11. 寫出一個百分位是「3」的小數。

答案：_____

2分

12. 7.0008 中，「8」表示多少？

- A. $\frac{8}{10}$ ○B. $\frac{8}{100}$ ○C. $\frac{8}{1000}$ ○D. $\frac{8}{10000}$

2分

13.

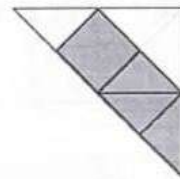


根據上圖，姐姐利用她全部四張卡拼出了一個最大的兩位小數，哥哥則利用他的全部四張卡拼出了一個最小的一位小數，他們拼出的數相差多少？

- A. 2.74 ○B. 21.29 ○C. 27.4 ○D. 51.43

2分

14. 右圖中的陰影部分佔全圖的幾分之幾？(以最簡分數作答)



答案：右圖中的陰影部分佔全圖的_____。

2分

15. 比較下列各組分數的大小，在圈內填寫「>」或「<」。

(a) $\frac{3}{7}$ ○ $\frac{3}{11}$

2分

(b) $\frac{57}{14}$ ○ $4\frac{5}{14}$

2分

16. 把下列各組數由小至大排列出來。

$\frac{23}{5}$, $\frac{11}{3}$, $4\frac{3}{4}$, $4\frac{5}{7}$

答案：_____ < _____ < _____ < _____
(最小) (最大)

2分
(全對給分)

17. 計算下列各題。(以最簡分數作答)

(a) $\frac{5}{8} + \frac{5}{12} =$ _____

2分

(b) $6\frac{1}{3} - 2\frac{11}{12} =$ _____

2分

18. 400米跑步比賽中，冠軍的成績是 $79\frac{1}{2}$ 秒，亞軍的成績與冠軍的相差 $1\frac{5}{6}$ 秒。亞軍的成績是多少秒？(列式計算)(以最簡分數作答)

2分
 1分
 1分

19. 小狗上年重 $6\frac{1}{9}$ kg，今年重 $5\frac{71}{72}$ kg，小狗今年輕了多少 kg？

(列式計算)(以最簡分數作答)

2分
 1分
 1分

20. 計算下列各題。

(a) $6.2 + 12.6 + 1.26 =$ _____

(b) $22.77 - 3.3 -$ _____ $= 10$

2分
 2分

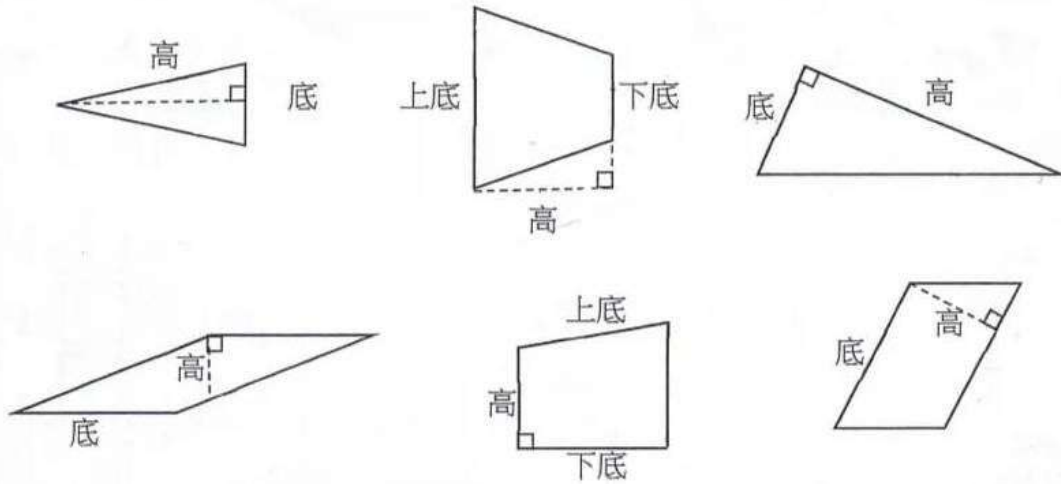
21.

大石小籬快餐店			
			
熱狗\$25.6	薯條\$12.8	洋蔥圈\$14.2	漢堡包\$28.5

妹妹買了一個漢堡包和一袋薯條，弟弟買了一個熱狗和一袋洋蔥圈。妹妹比弟弟多付多少元？(列式計算)

2分
 1分
 1分

22. 以下哪些圖正確標示平面圖形的底和高？把正確答案圈出來。

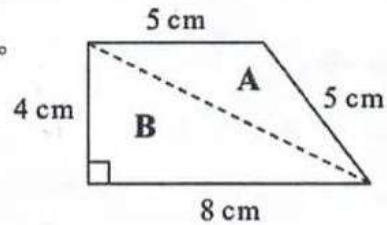


- 1分
- 1分
- 1分
- 1分
- 1分
- 1分

23. 右圖的梯形由三角形 A 和 B 組成。

(a) A 是一個 * 直角 / 等腰 / 等邊 三角形。
(*圈出答案)

(b) 梯形的面積是 _____ cm^2 。

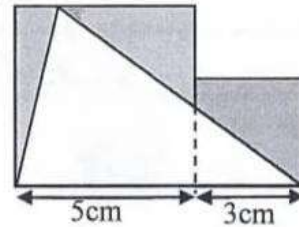


- 2分
- 2分

24. 右圖由兩個邊長分別是 5cm 和 3cm 的正方形組成，

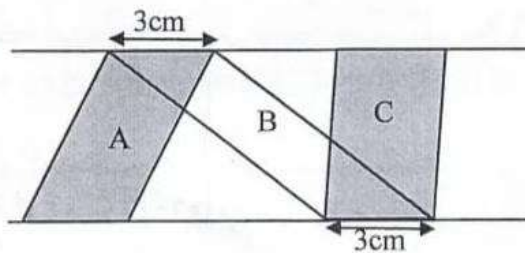
陰影部分的面積是多少？

答案： _____
(必須填寫單位)



- 2分

25.



上圖 A, B 和 C 都是平行四邊形，以下哪一項描述是正確的？

- A. 平行四邊形 C 的面積最大。
- B. 平行四邊形 A 的面積比平行四邊形 B 的面積大。
- C. 平行四邊形 B 的面積最小。
- D. 平行四邊形 A、B 和 C 的面積相等

- 2分