


(一) 解答下列各題。(每題 1 分, 共 10 分)

1. 在「30 278」中, 「2」代表的數值是多少?
2. 秒針走了 13 小格, 時間過了多少秒?
3. 下午 11 時 48 分距離新一天的開始還有多少分鐘?
4. $80 \div 2 \div \diamond = 8$, 那麼 $\diamond = ?$
5. 在「120」這個數中包含多少個「6」?
6. 用「12 小時報時制」寫出 00:05。
7. $70 \text{ mm} = ? \text{ cm}$
8. 英文字母「H」共有多少組平行線?
9. 每個蘋果重 200g, 5 個共重多少公斤?
10. 右圖的平行四邊形共有多少個直角?



1. _____
2. _____ 秒
3. _____ 分鐘
4. $\diamond =$ _____
5. _____ 個
6. ____ 午 ____ 時 ____ 分
7. _____ cm
8. _____ 組
9. _____ 公斤
10. _____ 個

10

(二) 回答下列各題。(每題 1 分, 共 4 分)

1. $8000 \text{ g} =$ _____ kg
2. $5 \text{ km } 4 \text{ m} =$ _____ m
3. $6 \text{ 厘米} =$ _____ 毫米
4. $12 \text{ 公斤 } 85 \text{ 克} =$ _____ 克

(三) 在橫線上填上適當的度量單位。(每題 1 分, 共 4 分)

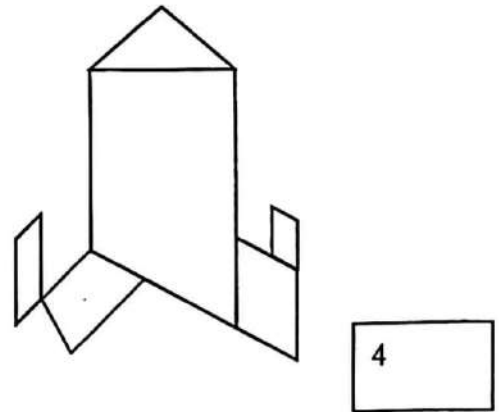
1. 一個南瓜重約 3 _____。
2. 一輛雙層巴士高約 4 _____。
3. 爸爸的公事包重約 400 _____。
4. 一部手提電腦重約 2300 _____。

4

(四) 慧怡用不同的平面圖形拼砌了一支火箭，根據下圖回答下列各題。

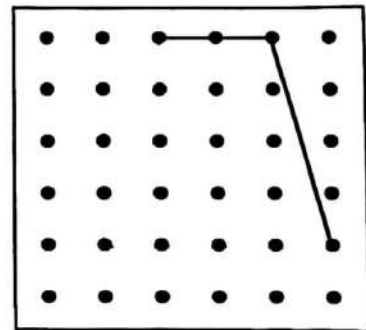
(每題 2 分，共 4 分)

1. 右圖有 _____ 個梯形。
2. 右圖有 _____ 個平行四邊形。

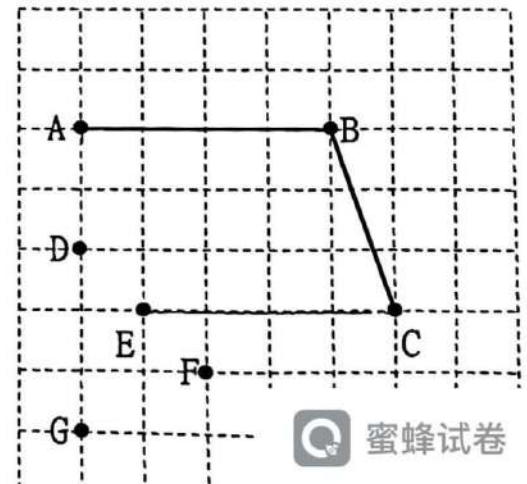


(五) 根據指示，回答下列各題。(每題 2 分，共 4 分)

1. 允行用橡皮圈在右面的釘板上圍了一個梯形。右圖顯示其中兩條邊，畫出這個梯形餘下的邊。(必須用直尺)



2. 志生嘗試用橡皮圈在右圖的釘板圍出一個平行四邊形。他應選用釘板上的 *(D / E / F / G) 點，才能與 A、B 和 C 點圍出一個平行四邊形。
(*圈出答案)




(六) 完成下列各題。(每題 2 分, 共 12 分)

1.



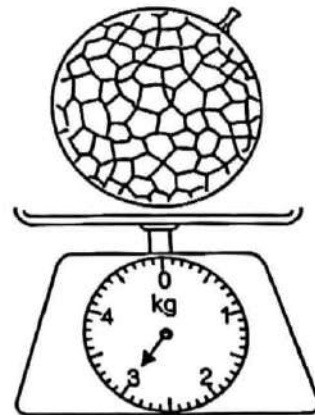
運動會的開始時間是 *(上午 / 下午) _____ 時 _____ 分。(全對才給分)
(* 圈出答案)

2.




浩輝和朋友慶祝生日, 生日會舉行了 _____ 小時。

3. 右圖中, 蜜瓜重 _____ 克。

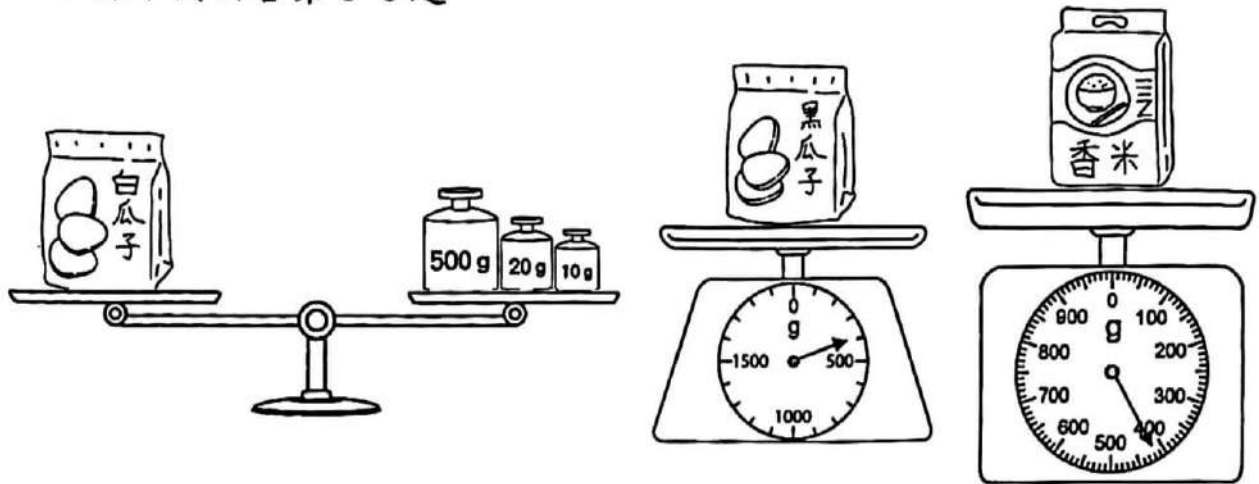


4.



 比  重 _____ 粒 .

根據下圖回答第 5-6 題。



5. 香米的重量是 _____ 克。

6. 以上三包食物中，最重的一包是 * (白瓜子 / 黑瓜子 / 香米) 。
(*圈出答案)

4

(七) 計算下列各題。(每題 2 分，共 20 分)

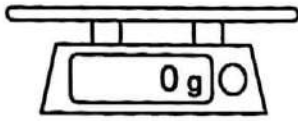
- | | |
|--------------------------------|-----------|
| 1. $389 + 893 = ?$ | 1. _____ |
| 2. $657 - 168 = ?$ | 2. _____ |
| 3. $4 \times 17 \times 25 = ?$ | 3. _____ |
| 4. $156 \times 8 = ?$ | 4. _____ |
| 5. $4 \times 37 = ?$ | 5. _____ |
| 6. $80 \div 5 \div 4 = ?$ | 6. _____ |
| 7. $406 \div 9 = ?$ | 7. _____ |
| 8. $624 \div 6 = ?$ | 8. _____ |
| 9. $87 \div 3 = ?$ | 9. _____ |
| 10. $520 \div 2 = ?$ | 10. _____ |

算草

20

1. 姊姊打算在家做麪包，她需要利用一個量度工具來量度材料的份量，下列哪一種量度工具最合適？

○A.



○B.



○C.

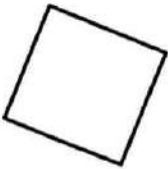


○D.



2. 以下哪個四邊形與其他四邊形是不同類的？

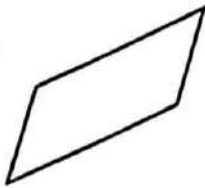
○A.




○B.





○C.



○D.



3.



細閱上圖，以下哪一項是正確的？

- A. 最重。
- B. 最重。
- C. 比 輕。
- D. 無法比較 和 的重量。

4. 下列哪組不是平行線？



5. 現有芝麻湯圓 94 粒和紅豆湯圓 56 粒，最多可做成鴛鴦湯圓多少碗？


A. 59

B. 31

C. 30

D. 28

每碗鴛鴦湯圓有芝麻湯圓 3 粒
和紅豆湯圓 2 粒。



4

(九) 簡答應用題。(每題 2 分，共 12 分)

1. 姐姐每天看 9 頁故事書，她會在第幾天看完這本故事書的第 145 頁？



一本故事書有 248 頁

2. 一套《詩文集》有 364 頁，哥哥用了 4 星期讀完。他平均每天讀了多少頁？

3. 果園有蘋果 874 個，上午賣出 422 個，下午賣出 307 個，上午和下午賣出蘋果的數量相差多少個？

4. 學校舉行舊課本捐贈活動，三年級有 4 班，每班有 28 人，如果每人捐出 2 本舊課本，共有舊課本多少本？

媽媽購買了下图的果凍 4 包，根據以下資料回答第 5-6 題。



5. 媽媽共買了果凍多少個？

5. _____ 個

6. 她把一包果凍平均分給哥哥、姊姊和秀文，

6. _____ 個

每人分得果凍多少個？

4

(十) 列式計算下列各題。(每題 4 分，共 20 分)

1. 摺一朵紙玫瑰需要手工紙 4 張，95 張手工紙最多可摺紙玫瑰多少朵？

2. 李老師把 256 支膠棒分給一班學生做手工，每人剛好分得 8 支而沒有剩餘，這班學生共有多少人？


8

下表記錄了禮品店換禮品的資料：

禮品	水晶球	動漫卡片	玩具車
積分(分)	334	182	265

3. 志文換領5套動漫卡片，共需要積分多少？

4. 姨姨買了熊貓公園的全年入場證，全年一共使用了6次，她平均每次的入場費是多少元？

熊貓公園 

全年入場證

成人 \$888

小童(12歲以下) \$444

5. 餅店今天做了鬆餅132個，店主打算把其中一半送給長者中心。他又把剩下的鬆餅每3個裝成一盒出售，共可裝成鬆餅多少盒？