

第 1-6 題，直式佔 1 分，橫式步驟及答案佔 1 分

<p>(1)</p>	$94 \div 7$ $=$ _____	<p style="text-align: center;">直式</p> <table border="1" style="width: 100%; height: 100%;"> <tr><td></td><td></td><td></td><td></td><td></td></tr> <tr><td></td><td></td><td></td><td></td><td></td></tr> <tr><td></td><td></td><td></td><td></td><td></td></tr> <tr><td></td><td></td><td></td><td></td><td></td></tr> <tr><td></td><td></td><td></td><td></td><td></td></tr> <tr><td></td><td></td><td></td><td></td><td></td></tr> <tr><td></td><td></td><td></td><td></td><td></td></tr> </table>																																			
<p>(2)</p>	73×6 $=$ _____	<p style="text-align: center;">直式</p> <table border="1" style="width: 100%; height: 100%;"> <tr><td></td><td></td><td></td><td></td><td></td></tr> <tr><td></td><td></td><td></td><td></td><td></td></tr> <tr><td></td><td></td><td></td><td></td><td></td></tr> </table>																																			
<p>(3)</p>	614×3 $=$ _____	<p style="text-align: center;">直式</p> <table border="1" style="width: 100%; height: 100%;"> <tr><td></td><td></td><td></td><td></td><td></td></tr> <tr><td></td><td></td><td></td><td></td><td></td></tr> <tr><td></td><td></td><td></td><td></td><td></td></tr> </table>																																			
<p>(4)</p>	$314 + 327 - 548$ $=$ _____ $=$ _____	<p style="text-align: center;">直式</p> <table border="1" style="width: 100%; height: 100%;"> <tr><td></td><td></td><td></td><td></td><td></td></tr> <tr><td></td><td></td><td></td><td></td><td></td></tr> <tr><td></td><td></td><td></td><td></td><td></td></tr> <tr><td></td><td></td><td></td><td></td><td></td></tr> <tr><td></td><td></td><td></td><td></td><td></td></tr> <tr><td></td><td></td><td></td><td></td><td></td></tr> </table>																																			

(5) $4 \times 125 \times 7$

= _____

= _____

直式

(6) $38 - 125 + 267$

= _____

= _____

= _____

直式

(7) 在 17406 這個數中，哪一個數字表示的數值最小？

○A. 7 ○B. 4 ○C. 0 ○D. 6

(8)

下列哪一個數最接近上圖算柱所表示的數？

○A. 44000 ○B. 45000 ○C. 46000 ○D. 47000

(9) 以下哪個數是比 35000 小，又比 32560 大的五位雙數？

○A. 36000 ○B. 34999 ●C. 33500 ○D. 31000

本頁扣除總分：

(10)	寫出「60057」的讀法。 答案：_____					
(11)	在 12345 這個數裏，數字「3」表示的數值是_____。					
(12)	根據下列指示，在 <input type="text"/> 內寫出一個五位數。 數字「7」是在千位， 數字「6」是在萬位， 數字「4」是在十位， 數字「3」是在個位， 數字「1」是在百位。 <table border="1" data-bbox="762 808 1262 913"><tr><td> </td><td> </td><td> </td><td> </td><td> </td></tr></table>					
(13)	跑步徑長 400 米，姊姊在跑步徑來回跑了 2 次， 共跑了_____米。					
(14)	陳小姐有糖果 25 粒，她把糖果平均分給 3 個朋友，然後吃去餘下的糖果。她吃去糖果_____粒。					
(15)	每盒有鉛筆 8 枝，黃老師有 45 盒鉛筆，共有鉛筆多少枝？ (列式計算)					






本頁扣除總分：

(16)	<u>小明</u> 收集了郵票 180 枚， <u>小芬</u> 比 <u>小明</u> 多郵票 45 枚， <u>小文</u> 比 <u>小芬</u> 少郵票 74 枚， <u>小文</u> 有郵票多少枚？(列式計算)
(17)	每箱蘋果有 250 個。水果店今天售出蘋果 6 箱和橙 4 箱，共售出蘋果多少個？(列式計算)
(18)	小食店有燒賣 94 粒，每 6 粒穿成一串，共可穿成多少串，餘下燒賣多少粒？(列式計算)

本頁扣除總分：

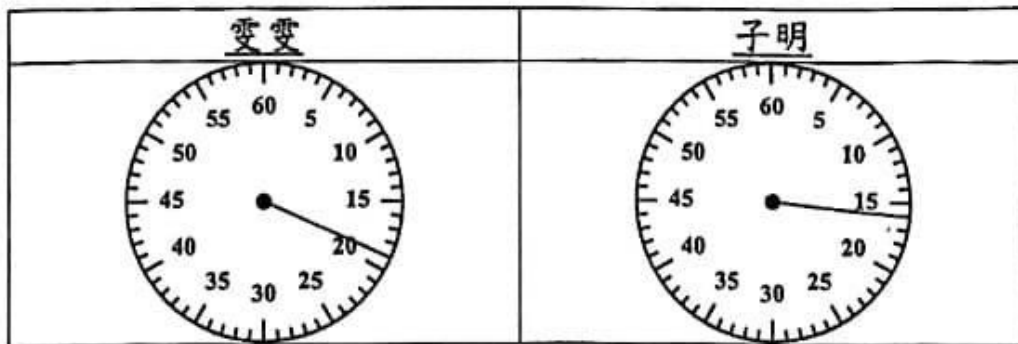
<p>(19)</p>	<p>有 79 個足球，每個紙箱可放足球 6 個。要把所有足球放好，最少需要箱子多少個？（列式計算）</p>
<p>(20)</p>	<p>在□內填上適當的數。（整題給分）</p> $ \begin{array}{r} \square 5 \square \\ \times \quad 6 \\ \hline 15\square 8 \end{array} $
<p>(21)</p>	<p>在__上填寫答案。</p> <p>用 $\boxed{3}$、$\boxed{3}$、$\boxed{3}$、$\boxed{0}$ 和 $\boxed{0}$ 這五張數卡，可以排出多少個五位單數？</p> <p>答：_____個。</p>
<p>(22)</p>	<p>把以下長度由長至短排列出來。</p> <p style="text-align: center;"> 6 km 600 m 6100 m </p> <p>_____， _____， _____</p> <p style="text-align: center;">(最長) (最短)</p>

本頁扣除總分：

(23)	21 厘米 = _____ 毫米
(24)	<p>在橫線上填上適當的度量單位。</p> <p>林老師約高 180_____。</p> <p>一節數學課長 35_____。</p>
(26)	<p>右面是美欣開始畫水彩畫的時間，</p> <p>她畫水彩畫用了 46 分鐘，</p> <p>完成時間是_____ 時_____ 分。</p> 
(27)	(籃球場闊 / 青馬大橋 / 直尺 / 巴士) 的長度約 2km。
(28)	<p>陳先生的上班時間是 。</p> <p>他因交通擠塞遲了 25 分鐘回到公司，他到達公司的時間是_____ 午_____ 時_____ 分。</p>
(29)	<p>小琪玩呼拉圈用了多少時間？</p>  <p>6 時 29 分</p>   <p>6 時 34 分</p> <p>小琪玩呼拉圈用了 _____ 分鐘。</p>

本頁扣除總分：

(30) 以下秒錶顯示雯雯和子明完成 100 米賽跑的時間。



子明比雯雯 (快 / 慢) _____ 秒。(整題給分)

(31) 以下是四名學生完成游泳比賽的時間。

學生 A	學生 B	學生 C	學生 D
42 秒	48 秒	38 秒	44 秒

完成時間比 45 秒快的學生能進入決賽，這四名學生中有多少人能進入決賽？

- A. 1
 B. 2
 C. 3
 D. 4

(32) 請為以下的量度活動選擇合適的工具。



腰圍

- A. 厘米尺
 B. 軟尺
 C. 米尺
 D. 滾輪

本頁扣除總分：

(33)

火車在

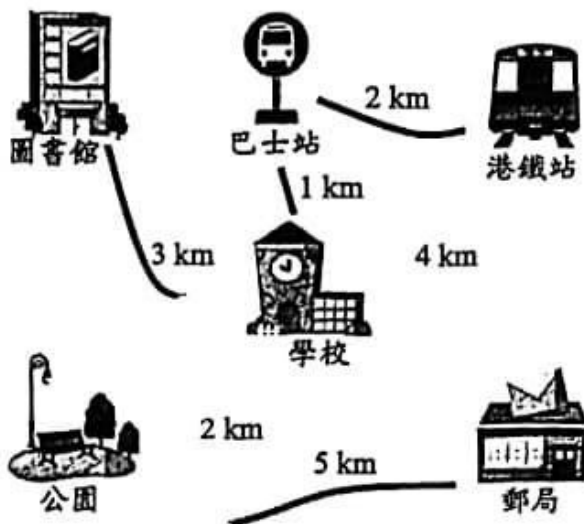


出發，車程是 2 小時，

火車會在甚麼時間到達目的地？

- A. 9:24a.m. ○B. 11:22a.m. ○C. 7:22a.m. ○D. 11:12p.m.

根據路徑圖，完成下列各題。



(34) 距離學校路程最短的設施是 _____。(2%)

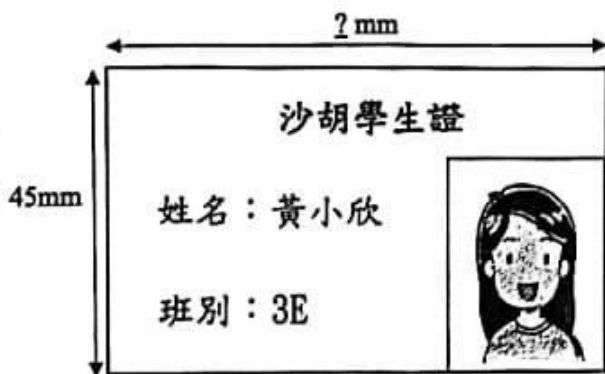
(35) 從公園經學校往圖書館，全程共要走 _____ km。(2%)

本頁扣除總分：

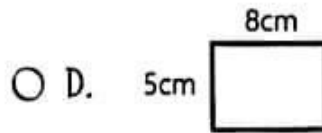
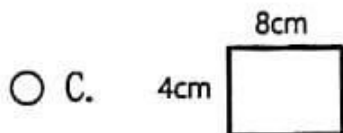
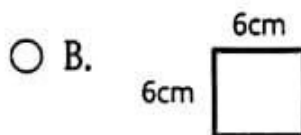
下圖是香港飛往北京的航班時間表。

航班	起飛時間
A	6:10 a.m.
B	10:30 a.m.
C	5:00 p.m.

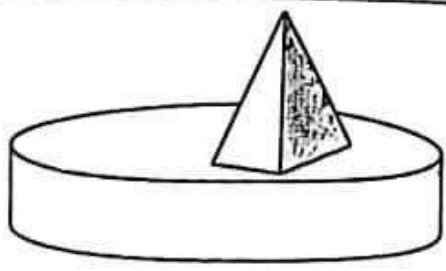
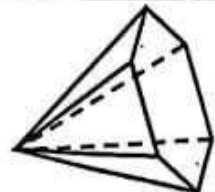
- (36) 香港飛往北京需要 4 小時，如果要在中午前到達北京，應該乘搭航班_____。(2%)
- (37) 爸爸在航班 C 起飛前 2 小時到達機場，即他在_____午_____時_____分到達機場。(2%) (整題給分)



- (38) 以上學生證的闊是 45mm，長是_____ mm(請用直尺量度)(2%)
- (39) 以上學生證可以放進哪一尺寸的證件套裏？(2%)



本頁扣除總分：

<p>(40)</p>	<p>右圖的模型是由哪些立體圖形組成？</p> <p>○ A. 一個圓柱和一個三角柱</p> <p>○ B. 一個圓柱和一個三角錐</p> <p>○ C. 一個圓錐和一個三角柱</p> <p>○ D. 一個圓錐和一個三角錐</p>	
<p>(41)</p>	<p>以下哪個立體圖形的面的數量，和六角錐的面的數量相同？</p> <p>○ A. 四角錐 ○ B. 五角柱 ○ C. 五角錐 ○ D. 六角柱</p>	
<p>(42)</p>	<p>右圖的立體圖形是 _____。</p>	

統計圖：根據下面的象形圖，回答下列問題。

老師記錄了 3E 班學生最喜愛的運動，然後製作了以下的象形圖。

3E 班學生最喜愛的運動

每個 代表 1 人

跑步 踢足球 跳繩 擲豆袋 跳遠

本頁扣除總分：

(42)	最喜愛 _____ 的學生人數是最喜愛擲豆袋的 3 倍。
(44)	最喜愛踢足球的學生人數比最喜愛跳遠的多 _____ 人。
(45)	3E 班共有學生 _____ 人。

【 全卷完 】

本頁扣除總分：