


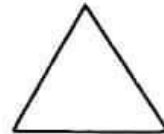

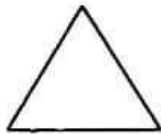

總分 (70 分)

全卷 27 題，在答題紙上作答，作答時限 40 分鐘

(甲) 計算題：42 分 (1-19 題：每 2 分，第 20 題 4 分)

1. 用以下的平面圖形可以拼砌出下列哪種立體圖形？

(用英文字母作答)



A. 三角錐體

B. 四角錐體

C. 三角柱體

D. 四角柱體

2. 右圖共有比直角大和比直角小的角各多少個？

(用英文字母作答)

比直角大的角

比直角小的角

A. 1 個

3 個

B. 2 個

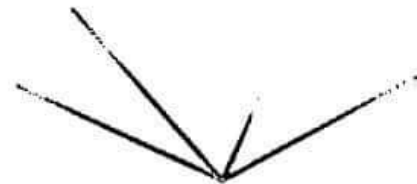
3 個

C. 2 個

4 個

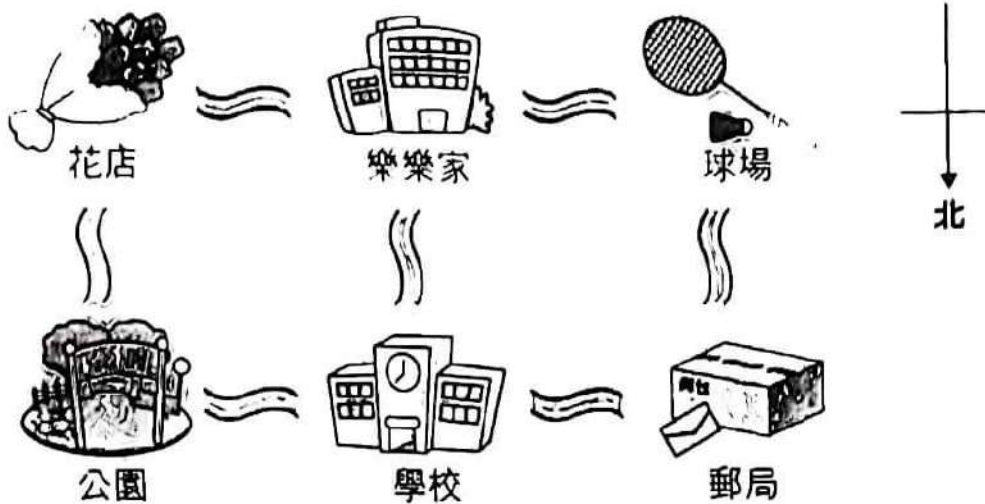
D. 3 個

4 個



9. 媽媽面向西方，然後向右轉三個直角，現在她的左面是甚麼方向？

下面是樂樂家附近的地圖，細心觀察後回答第 10-11 題。



10. 球場在花店的___?___方。

11. 學校在___?___的東方。

12. 填上適當的答案。

a) 6 厘米 7 毫米 = ___?___ 毫米

b) 10 公里 307 米 = ___?___ 米

13. 填上適當的答案。

a) 7 kg 20 g = ___?___ g

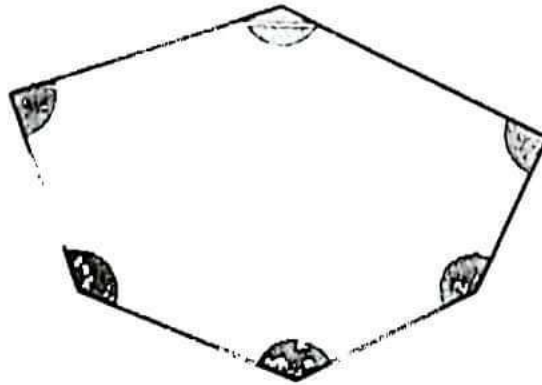
b) 6780 克 = ___?___ 公斤 ___?___ 克

14. 右面是電視台部分的節目時間表，
「新聞報道」比「科學新知」播放
時間長多少分鐘？

播放時間	節目名稱
17:20	體育天地
18:05	科學新知
18:30	新聞報道
19:00	電影專場

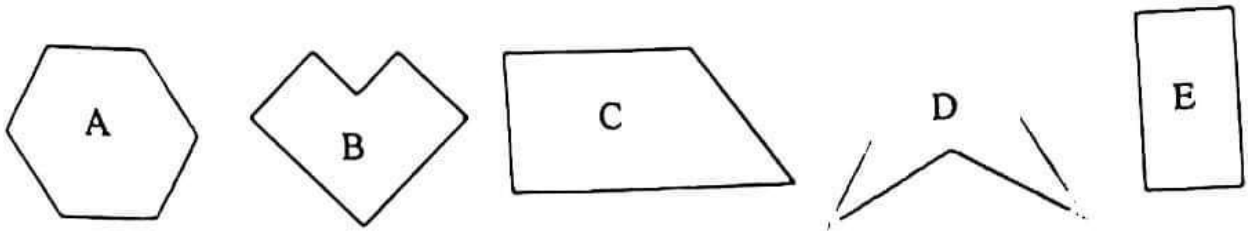
15. 波波池樂園每小時收費 50 元(不足一小時亦作一小時計算)，嘉欣
在 13:40 進入波波池，於 15:50 離開，共須付多少元？

16. 根據下圖填寫答案。



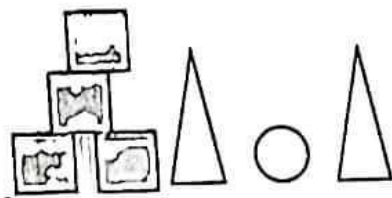
- a) _____ ? _____ 個銳角。
- b) _____ ? _____ 個鈍角。

17. 觀察下面的平面圖形，寫出所有代表答案的英文字母。




有直角的四邊形：_____?

18. 觀察下圖，回答問題。



1000g

500

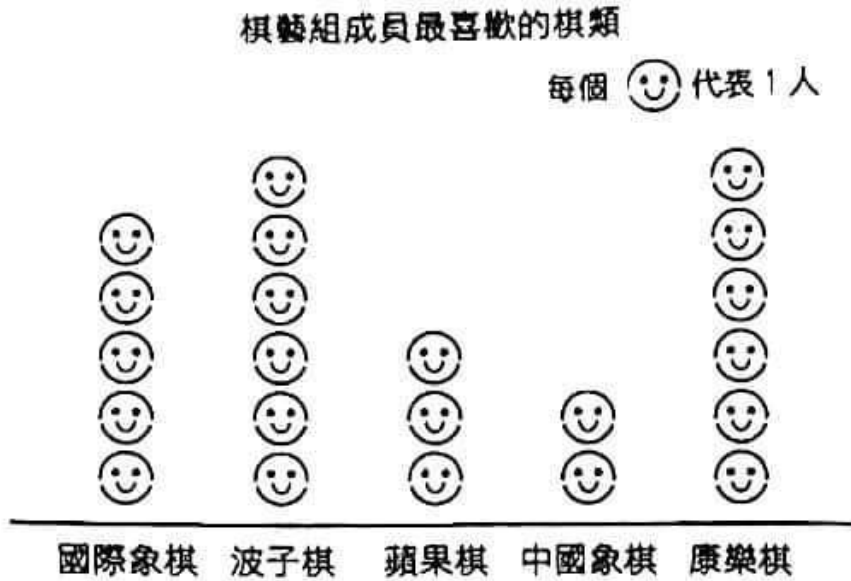


1000g

500


一個  重 _____ 克

19. 以下是棋藝組成員喜歡的棋類統計。



喜歡國際象棋的成員和最少成員喜歡的一種棋類相差多少人？

20. 觀察以下的象形圖，並回答問題。



a) 進行統計當天有 4 位同學缺席，2C 班共有同學多少人？(2 分)

b) 如果 4 位缺席的同學在家以網上形式參加統計，提子糖有可能成為最多同學喜歡的糖果嗎？(1 分) 試解釋。(1 分)

(乙) 列式計算：28 分(必須依題意列式，每題 4 分)

21. 餅店有曲奇 3754 塊，上午賣去 1187 塊，下午賣去 1034 塊後，
還有曲奇多少塊？

22. 超級市場有蘋果汁 425 瓶，比橙汁多 255 瓶。今天超級市場賣出
橙汁 124 瓶，還餘橙汁多少瓶？

23. 一盒餅乾有巧克力味 423 塊和香橙味 185 塊。明明買了 5 盒餅
乾，他共有餅乾多少塊？

24. 每袋波子有 256 粒，其中 42 粒是紅色，餘下的是黃色。現在有
8 袋波子，黃色波子共有多少粒？

25. 哥哥每天有零用錢 183 元，他想買一個售價是 854 元的機械
人，現已儲蓄了 3 天，他還欠多少元？

26. 畫展的成人入場券售 125 元，小童入場券售 84 元。媽媽帶了
3 個小童去參加畫展。他們共須付多少元？

27. 羽毛球班首月月費 400 元，之後每個月 450 元，芝芝打算參加
8 個月的羽毛球班，共須付多少元？