

數學科  
(共九頁)

班別： P.1 ( ) \_\_\_\_\_

積 分：            /100

姓名：            ( )

日 期： 7-7-2022

時限： 50 分鐘

學生須知：

1. 全卷共 36 題。

2. 全部題目均須作答。



(a) 多項選擇題：在○內塗黑和塗滿。

●A.      ○B.      ○C.      ○D.

(b) 列式計算：每題 4 分，錯漏橫式不給任何分。

1. 看看下圖，把正確的英文字母填在      上。(全對才給分)

(6% @2%)




(a) 只由直線組成的圖案有：B, F ✓。

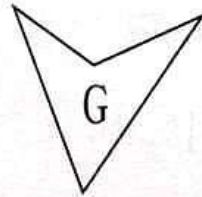
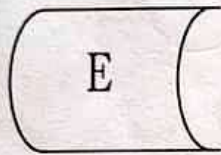
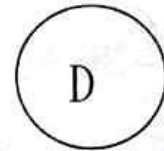
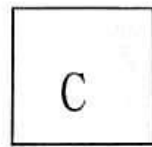
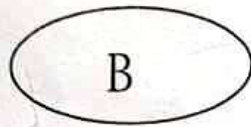
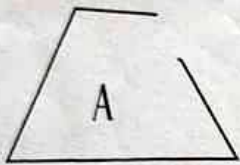
(b) 只由曲線組成的圖案有：D, E ✓。

(c) 由直線和曲線組成的圖案有：A, C ✓。

2. 在方格內加畫直線，使成為一個英文字母。(2%)



3. 觀察下圖，在\_\_\_上填寫所有代表答案的英文字母。  
(全對才給分)(6% @2%)

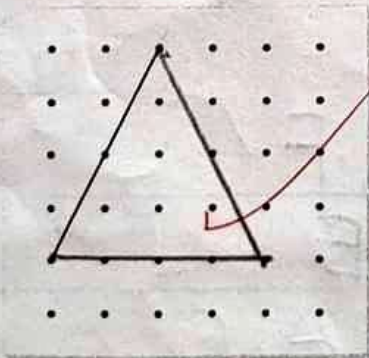


(a) 圓形： D

(b) 四邊形： C, G

(c) 六邊形： F

4. 在下面的釘點紙上加畫直線，畫出一個三角形。(2%)



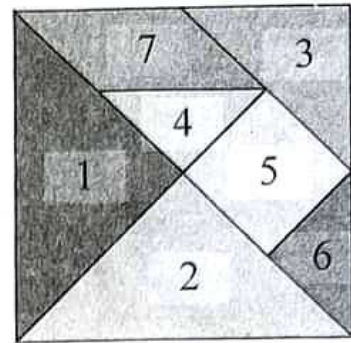


數學科

P.1( )

姓名:

5. 右面的七巧板中，以下哪組圖形板不可以拼砌出一個四邊形？(2%)



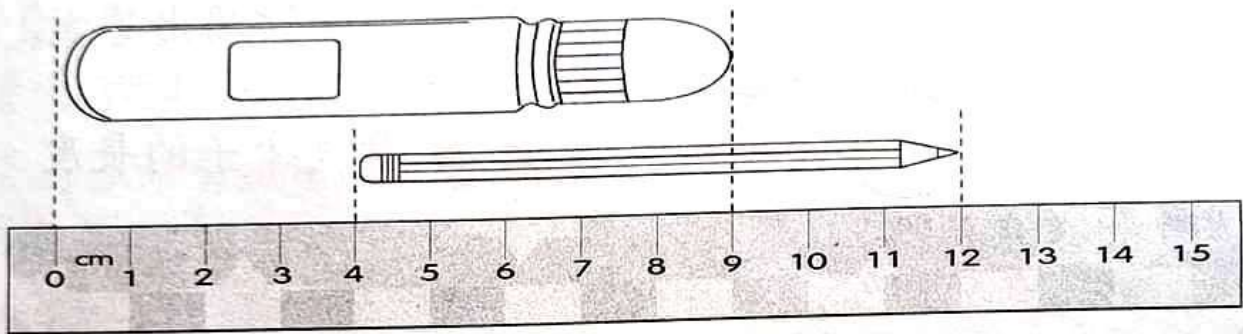
A. 圖形板 1 和 2


B. 圖形板 4、5 和 6


C. 圖形板 3 和 5


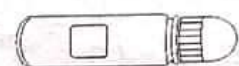
D. 圖形板 4 和 6

6. 觀察下圖，把答案填在\_\_\_上，並圈出答案。(6% @2%)



(a)  長 9 cm。

(b)  長 8 cm。

(c)  比  \* (長 / 短) 1 cm。


(\*圈出答案)(全對才給分)

7. 用厘米尺量度下面原子筆的長度，把答案填在\_\_\_上。(2%)



原子筆的長度約是 14 厘米。

8. 用厘米尺量度下面  $\longleftrightarrow$  的長度，回答下列問題。(4% @ 2%)



(a) 和 相距約 5 cm。

(b) \* ( / / ) 距離 最遠。(\*圈出答案)

9. 我會用 \* ( / / ) 量度傘子的長度。  
(\*圈出答案)(2%)

10. 如果 長度是 20 厘米，用 量門的闊度，共量得 3 次。門的闊度為 60 厘米。(2%)

11. 爸爸和小傑分別用他們的指距 來量度同一件物件的長度，結果如下：(2%)

用爸爸的指距	長 8 個
用 <u>小傑</u> 的指距	長 14 個

猜一猜，他們量度了甚麼物件的長度？

- A. 貨車的長度
- B. 練習簿的長度
- C. 餐桌的闊度
- D. 杯子的高度



數學科 P.1( ) 姓名:

12. 用哪些量度工具量度以下物件較適合? 把正確的英文字母填在\_\_\_\_上。(全對才給分)(4% @2%)

A.



B. 量度水樽一圈



C.



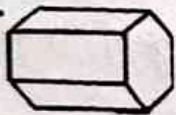
(a) 厘米尺: A, C

(b) 軟尺: B


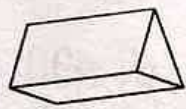
13. 看看下圖, 把正確的英文字母填在\_\_\_\_上。

(全對才給分)(4% @1%)

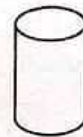
A.



B.



D.



E.



(a) 可以疊起來的積木有: A, B, D

(b) 可以滾動的積木有: C, E, D -2

14. 爸爸把 10 張光碟整齊地疊起來, 會組成哪種立體圖形?(2%)

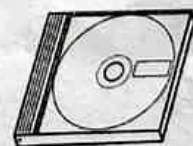
A. 球體

B. 柱體

C. 錐體

D. 以上皆不是

光碟



15. 一星期有 七 天。(2%)

16. 今天是星期一，兩天後是星期 三。(2%)

17. 50 這個數中，5 在\*(十 / 個)位，表示 50。  
(\*圈出答案)(全對才給分)(2%)

18. 把以下的雙數由大至小排列。(全對才給分)(2%)

74	84	29	18	99
----	----	----	----	----

答案：84，74，18  
(最大) (最小)

19. 寫出一個兩位雙數，其個位和十位的數字加起來是 5，  
這個數可以是 32。(2%)

20. 10 個小朋友有多少隻手指？(2%)

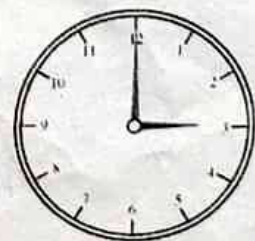
A. 60       B. 70       C. 90       D. 100

21. 依規律填數字。(全對才給分)(2%)

25	30	<u>35</u>	<u>40</u>	45	<u>50</u>
----	----	-----------	-----------	----	-----------

22. 足球班將於 4 時正開始，右面時鐘顯示了現在的時間。  
足球班還有多久才開始？(2%)

A. 3 小時       B. 2 小時  
 C. 1 小時       D. 4 小時





數學科 P. 1、 ) 姓名:

第 23 至 28 題，計算下列各題。(12% @2%)

23.  $28 - 3 = \underline{25}$  ✓

24.  $74 - 24 = \underline{50}$  ✓

25.  $16 + 13 = \underline{29}$  ✓

26.  $45 + 46 = \underline{91}$  ✓

27.  $27 + 8 + 39 = \underline{74}$  ✓

28.  $58 - \underline{48}$  ✓ = 10

29. 在下方的算式中， $\triangle$  和  $\diamond$  分別代表什麼數字？ -2

(全對才給分) (2%)

$$\begin{array}{r} \triangle \quad \diamond \\ + \triangle \quad \diamond \\ \hline 3 \quad 0 \end{array}$$

答案： $\triangle = \underline{20}$  ~~x~~ 1  
 $\diamond = \underline{10}$  ~~x~~ 5

30. 媽媽付 64 元購買 1 枝鉛筆和 1 個筆袋。每枝鉛筆售 12 元，筆袋售 52 ✓ 元。(2%)

31. 1 包薯片 13 元。哥哥有 50 元，買 3 包薯片需付 39 ✓ 元。  
(2%)

應用題：列式計算下列各題。(20% @4%)

例：樹上有小鳥 8 隻，樹下有小狗 7 隻，共有動物多少隻？

共有動物：

$$\begin{array}{r} 8+7 \\ \hline =15(\text{隻}) \end{array}$$

32. 農場裡有羊 24 隻，牛 35 隻，牛比羊多幾隻？

牛比羊多：

$$\begin{array}{r} 35-24 \\ \hline =11(\text{隻}) \end{array}$$

33. 小明昨天用去 56 元，今天用去 14 元，這兩天共用去多少元？

這兩天共用去：

$$\begin{array}{r} 56+14 \\ \hline =70(\text{元}) \end{array}$$



數學科

P.1( )

姓名:

34. 哥哥把 5 粒糖果送給妹妹後，自己還有 22 粒糖果，哥哥原有糖果多少粒？

哥哥原有糖果：

$$\begin{array}{r} 22 + 5 \\ \hline = 27 \end{array} \text{ (粒)}$$

35. 中文書有 26 本，英文書有 12 本，中文書和英文書相差多少本？

中文書和英文書相差：

$$\begin{array}{r} 26 - 12 \\ \hline = 14 \end{array} \text{ (本)}$$

36. 書櫃原有 16 本書，陳老師給每位學生各派發 1 本書後，餘下 3 本。陳老師共派發了書多少本？

陳老師共派發了書：

$$\begin{array}{r} 16 - 3 \\ \hline = 13 \end{array} \text{ (本)}$$