

姓名：_____ ()

班別：四()

2023-2024 年度

數學科小測一

Ch(上 A1-6)

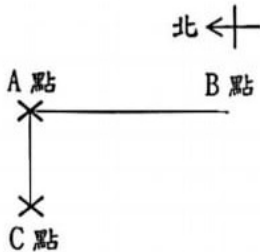
時限：25 分鐘

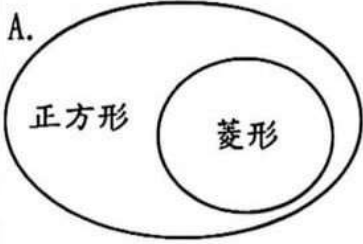
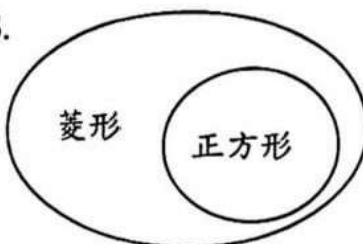
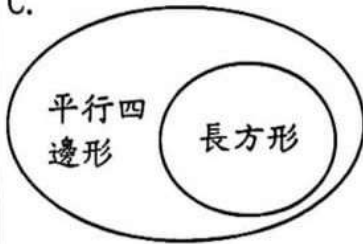
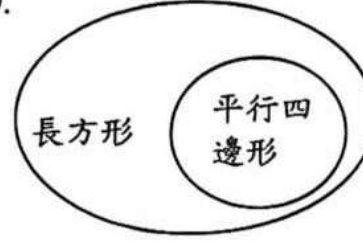
成績：_____

日期：_____

家長簽署：_____

(一) 回答下列各題 (52% @4%)

1.	明明面向東方，他背向哪一方？	1.	_____ 方
2.	依右圖，A 點在 C 點的哪一方？ 	2.	_____ 方
3.	以 24 小時報時制表示下午 2 時。	3.	_____
4.	5 升 800 毫升 = _____ 毫升	4.	_____ 毫升
5.	$93 \times 60 = ?$	5.	_____
6.	$51 \times 284 = ?$	6.	_____
7.	$78 \div 12 = ?$	7.	_____
8.	$25 \times 33 \times 4 = ?$	8.	_____
9.	$\odot \div 14 = 2 \cdots 7$ ， \odot 代表的數字是多少？	9.	_____
10.	以下哪道算式與 125×56 的答案相同？ (填上代表答案的英文字母) A. 130×60 B. 120×50 C. $125 \times 8 \times 7$ D. $100 \times 25 \times 56$	10.	_____

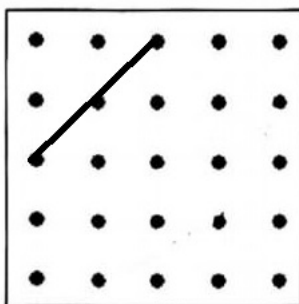
11.	<p>長方形具備以下哪項/些性質? (填上代表答案的英文字母)(全對才給分)</p> <p>A. 對邊長度不相等 B. 只有一組對邊平行</p> <p>C. 四個角都是直角 D. 由直線組成</p>	11.	<hr/>
12.	<p>以下哪個/些溫氏圖是正確的? (填上代表答案的英文字母)(全對才給分)</p> <p>A. </p> <p>B. </p> <p>C. </p> <p>D. </p>	12.	<hr/>
13.	<p>以下哪項/些描述是必定正確的?(填上代表答案的英文字母)</p> <p>(1) 所有正方形皆是長方形</p> <p>(2) 菱形具備了平行四邊形的特性</p> <p>(3) 梯形是平行四邊形的一種</p> <p>A. (1)和(2) B. (1)和(3)</p> <p>C. (2)和(3) D. (1)、(2) 和(3)</p>	13.	<hr/>

(二) 列寫橫式 (16% @4%)

14.	玩具車的售價是洋娃娃的 2 倍。玩具車現售 74 元，洋娃娃售多少元? 橫式: _____
15.	遊樂場門票每張 238 元，現優惠買 10 送 1。4F 班全班 28 人，他們享用優惠購買遊樂場門票，他們共須付多少元? 橫式: _____
16.	每包水果糖有 65 粒，其中 13 粒是草莓味。陳老師買了 22 包，她共有草莓味水果糖多少粒? 橫式: _____
17.	每包朱古力有 40 粒，弟弟買了 3 包後，吃去 2 粒。他還有朱古力多少粒? 橫式: _____

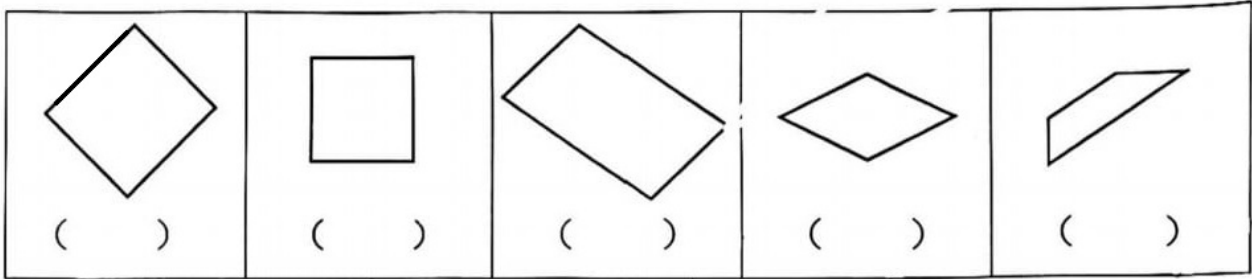
(三) 繪圖(4%)

18. 利用直尺在下面的釘板加畫線段，與原有的黑線組成一個菱形。



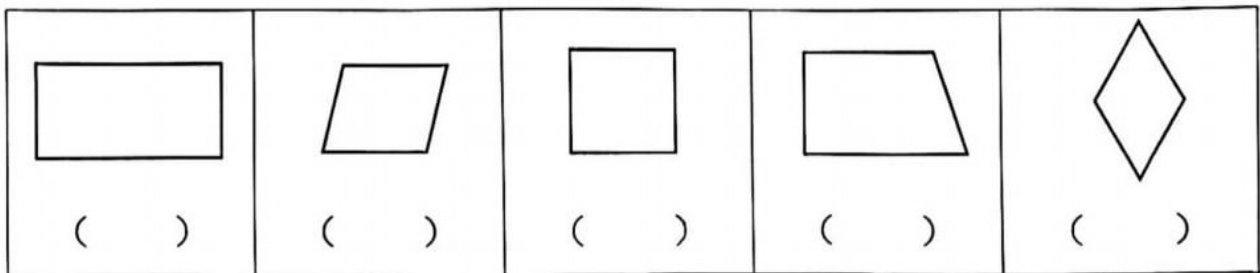
(四) 是非題 (10% @5%)

19. 以下的圖形是正方形嗎? 是的, 在()內加✓。不是的, 在()內加✕。



20. 以下的圖形是對邊平行及對邊長度相等的嗎?

是的, 在()內加✓。不是的, 在()內加✕。



(五) 應用題 (18% @6%)

21. 果汁店有橙 280 個, 每 3 個橙可製作成一杯果汁。它最多可製作果汁多少杯?

直式

22. 媽媽每天花費 38 元吃早餐。她在 9 月吃早餐共花了多少元？

直式

23. 工廠每 15 枝鉛筆裝成一盒，把 25 盒裝成一箱。文具店買入 16 箱，即買入鉛筆多少枝？

直式

P. 5

(全卷完)