

2023-2024年度
上學期 測驗

班別：四年級_____班

姓名：_____ ()

時限：30 分鐘

成績：_____

日期：_____

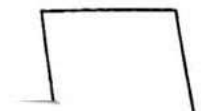
家長簽署：_____

(一) 短答題：計算下列各題，把答案填在橫線上。(20% @4%)

1. 198 最少要加上多少才能被 2 和 5 整除？ 1. _____
2. 用 0, 3, 6, 8, 9 組合出一個最大的五位單數。 2. _____
3. $25 \times 32 \times 4 = ?$ 3. _____
4. 哪一種四邊形是四邊長度相等及沒有直角的？ 4. _____
5. 2 米 5 厘米 = ? 厘米 5. _____ 厘米

(二) 短答應用題：計算下列各題，把答案填在橫線上。(24% @6%)

1. 四年級甲班有學生 30 人，比乙班少 6 人，丙班比乙班多 9 人，現每人交班會費 5 元。四年級丙班共可收得班會費多少元？ 1. _____ 元
2. 小販有帽 126 頂，每頂售 28 元，小販賣出所有帽可得多少元？ 2. _____ 元
3. 體育室內有足球 38 個，排球 152 個，排球的數量是足球的多少倍？ 3. _____ 倍
4. 老師有 304 粒糖果，平均分給 24 人後，還餘多少粒？ 4. _____ 粒

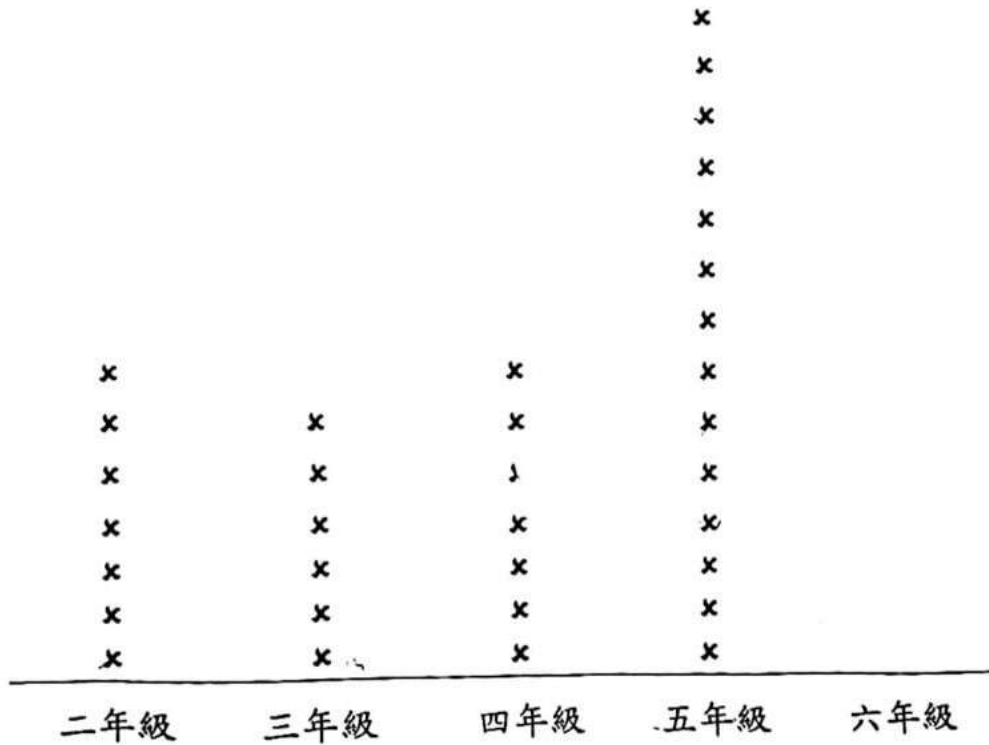


(三) 統計圖：細閱下圖，然後回答下列各題。(8% @4%)

以下是二至六年級學生於十月份的遲到人數統計圖。

二至六年級學生於十月份的遲到人數

每一圖像代表 1 人



- 哪兩個年級的遲到人數之和與五年級相同？
(全對才給分)
- 若各級學生總人數相同，哪個年級準時上學的人數最多？

1. _____和_____年級

2. _____年級

四年級_____班

姓名：_____ ()

(四) 列式應用題：(24% @8%)【列式 4 分，答案 4 分 (包括答句及單位，直式為算草，不佔分)】

1. 六年級有 3 班，每班有學生 32 人，每人要交簿費 102 元，全級共收費多少元？
2. 小食店有汽水 8 箱，每箱有 124 樽，現只剩 2 箱，小食店共賣出汽水多少樽？
3. 漢堡包 98 個，每個紙盒可放 8 個，最少要紙盒多少個才可盛載所有漢堡包？

(五) 看圖作題：把答案填在橫線上。(24% @4%)

1.

航班	啟航地	預定抵港時間
SA 710	新加坡	14:29
JL 513	東京	13:05

JL513 班機的航程需 2 小時 17 分鐘，它於何時啟航？1. ___午___時___分

2. 以下哪一個數不能被 3 整除？
(把英文字母填在橫線上)

2. _____



3. 利用以下的竹籤，可以拼出哪個四邊形？
(把英文字母填在橫線上)

3. _____

A. 正方形 B. 長方形 C. 梯形 D. 菱形

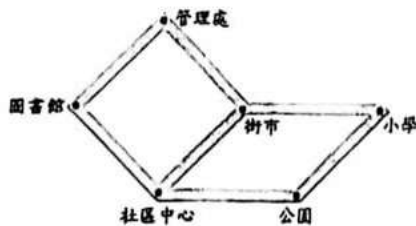
4 cm _____

4 cm _____

5 cm _____

5 cm _____

觀察下圖，回答第 4 及第 5 題。



4. 公園在小學的哪一方？

4. _____

5. 媽媽由街市前往管理處，應向哪一方走？

5. _____

6. 觀察下圖，灰色部份佔全圖的幾分之幾？

6. _____

